

### Задания для обучающихся 2 класса

Дата урока	№ урока	Предмет, класс	Тема урока	Содержание урока	Домашнее задание	Дата и форма предоставления д/з
Среда, 06.05. 2020	1	Окружающий мир	Обитатели солёных водоёмов	С. 105-108 — чтение, рассматривание картинок.	Задание на фото ниже таблицы.	Фотоотчет через личное сообщение в вконтакте.
		Окружающий мир VII	Город на Неве.	С. 108-1113 — чтение, рассматривание иллюстраций.	С. 113 — ответить на вопросы.(письменно).	
		Мир природы и человека VIII	Занятия людей весной.	С. 49-50 чтение рассказа.	Рассказать по картинкам, что делают люди весной в поле и в огороде.	
	2	Русский язык	Учимся применять орфографические правила.	С. 40-43 упр. 1, 5 (рабочая тетрадь). См. Фото ниже.	С. 43 упр. 8 (фото ниже).	
		Русский язык VII	Что такое текст-рассуждение.	С. 105 упр. 180 — читаем рассказ и вывод «Обрати внимание».	С. 106-107 упр. 182.	
		Речевая практика	Поклонимся памяти героев.	Заучивание стихов. <a href="https://www.youtube.com/watch?v=AgSIrmxFZNY">https://www.youtube.com/watch?v=AgSIrmxFZNY</a> См. Ниже таблицы.		
	3	Математика	Повторение.	С. 124, 125 №11, 15.	С. 126 №20	
		Математика VII	Закрепление изученного решение задач.	С. 84 №1,3,6	С. 85 №8.	
		Математика VIII	Повторение.	С. 99 №26.	С. 22 №27	

	4	Лит. чтение	Произведения к Дню Победы.	С. 91-92. С. Михалков «Быль для детей» - чтение, моделирование обложки. С. 93 — читаем сведения по условными обозначениями.	Выразительно читать. Устно отвечать на вопросы. С. 94 вопрос №4 — записать пословицы в тетрадь.	Аудиозапись фотоотчёт
		Лит. Чтение VII	Американские и английские народные песенки.	С. 174-179 — читаем песенки. Устно отвечаем на вопросы.	Выразительное чтение песенок.	Аудиозапись чтения
		Чтение VII	«Друзья» по С. Козлову. «Необыкновенная весна».	С. 61-63 — чтение, устные ответы на вопросы.	С. 61 №8	Аудиозапись
	5	Музыка Музыка VII Музыка VIII	Природа и музыка.	Г. Свиридов. «Вальс» <i>Из музыкальных иллюстраций к повести А. Пушкина «Метель».</i> - слушание, запись в тетрадь названия и автора произведения. <i>Ваши впечатления.</i> <a href="https://www.youtube.com/watch?v=EXjCrUUtpi4">https://www.youtube.com/watch?v=EXjCrUUtpi4</a> <i>Пусть всегда будет солнце. А. Островский — разучивание.</i> <a href="https://www.youtube.com/watch?v=qKtN-qOMDLo">https://www.youtube.com/watch?v=qKtN-qOMDLo</a>		
Четверг, 07.05. 2020	1	Русский язык	Учимся писать текст-повествование.	С. 127 упр. 1	С. 127 упр. 2	
		Русский язык VII	Проверочная работа по теме «Местоимение».	С. 107 упр. 1-5.		
		Русский язык VIII	Предложения-вопросы и предложения-ответы.	С. 66 упр. Упр. 1, правило — прочитать и запомнить. Письмо по памяти: с. 67 — выучить вопрос, ответ и записать с закрытой книгой, проверить по книге.	С. 66 упр. 2.	
	2	Математика	Контрольная	Вариант 3 (см. ниже)		

			работа по теме «Прямоугольник и квадрат»		
		Математика VII	Умножение числа 3 и на 3.	С. 90, 91 -записываем таблицу умножения на 3. Заучиваем.	С. 91 №1.
		Математика VIII	Меры времени.	С 105 № 1, 3	С. 106 №4.
	4	ИЗО ИЗО VII	Ритм линий и пятен, цвет, пропорции – средства выразительности.	Творческая работа «Весна. Шум птиц». Использование разных материалов.	
		ИЗО VIII	Праздник 9 Мая.	Рисование праздничной открытки к Дню Победы.	
	5	Узнаем сами	День Победы.	<a href="https://vk.com/away.php?to=https%3A%2F%2Fwww.youtube.com%2Fwatch%3Fv%3D8gsHoB71meE&amp;post=-194471940_5&amp;cc_key=">https://vk.com/away.php?to=https%3A%2F%2Fwww.youtube.com%2Fwatch%3Fv%3D8gsHoB71meE&amp;post=-194471940_5&amp;cc_key=</a> Готовим стихи, рисунки, поделки для участия в школьном конкурсе «Правнуки Победы» (см. в контакте группа «Скалинская основная школа. 9 Мая»)	
Пятница, 08.05. 2020.	1	Русский язык	Описание и повествование в тексте.	С. 128 упр. 1. Прочитать вывод.	Записать в словарь словарные слова. Запомнить написание.
		Русский язык VII	Предлог. Правописание предлогов.	С. 109 читаем правило, упр. 185 устно, с. 110 учим правило. Упр. 187.	
		Речевая практика	Поклонимся памяти героев.	Чтение стихотворений наизусть. Составление поздравлений.	Записать поздравления «Поздравляю Вас с...» «Я хочу пожелать Вам...»
	2	Математика	Работа над ошибками. Повторение.	С. 126 №19	

	Математика VII	Деление на 3.	С. 92 №1 (устно). №2, 5.		
	Математика VIII	Меры времени.	с. 107 №8, 9, 10.		
3	Лит. чтение	Произведения к Дню Победы.	С. 94-95 С. Баруздин «Салют» - Чтение, рассматривание иллюстраций, фотографий, ответы на вопросы.	Выразительно читать стихотворение. С. 95 №4.	
	Лит. чтение VII	Чтение народных песенок.	С. 179-181 — чтение, ответы на вопросы.	Выучит немецкую песенку наизусть	Аудиозапись
	Чтение VIII	«Не понимаю» Э. Мошковская. «Кот Иваныч» пл Г. Скребицкому.	С. 64-65 — чтение, ответы на вопросы.	С. 65 - пересказ	

**Для Славы В. 6 мая**

**Куда б ни шёл, ни ехал ты**  
М. Исаковский

Куда б ни шел, ни ехал ты,  
Но здесь остановись  
Могиле этой дорогой  
Всем сердцем поклонись

Кто б ни был ты: рыбак,  
шахтёр,  
Учёный иль пастух,  
Навек запомни: здесь лежит  
Твой самый лучший друг.

И для тебя, и для меня  
Он сделал все, что мог:  
Себя в бою не пожалел,  
А Родину сберег.

Упражнение

1. Вставь буквы.

м_чта	п_суда	мес_ц
р_сунок	к_р_ндаш	_вт_м_биль
ст_лица	кв_ртира	ов_щи
п_нал	к_ньки	м_роз

Упражнение

5. Запиши проверочные слова, вставь, если необходимо, буквы.

_____ - вкус ный	_____ - мес ность
_____ - поз но	_____ - окрес ность
_____ - вкус ный	_____ - звез ный
_____ - тес ный	_____ - слез ный
_____ - опас ный	_____ - серьез ный

Упражнение

8. Запиши словосочетания, заменив имена прилагательные на противоположные по значению.

весёлый фильм — \_\_\_\_\_

трудная задача — \_\_\_\_\_

высокий стул — \_\_\_\_\_

печальное событие — \_\_\_\_\_

несчастный человек — \_\_\_\_\_

ранний поезд — \_\_\_\_\_

новое правило — \_\_\_\_\_


прекрасная погода — \_\_\_\_\_

Контрольная работа. 7 мая

Вариант 3

1. Вычисли ширину прямоугольника, если его периметр равен 16 м, а длина — 6 м.


Решение:



Ответ: \_\_\_\_\_.


2. Найди площадь прямоугольника, если сумма его длины и ширины 15 м, а ширина 6 м.

Решение:



Ответ: \_\_\_\_\_.

- 3\*. Известно, что у прямоугольника длина в 3 раза больше ширины. Начерти этот прямоугольник, если на чертеже изображена его ширина.



Раздели полученный прямоугольник на 3 квадрата. Вычисли площадь каждого квадрата.

Окружающий мир. 6 мая

2. Сделай подписи к рисункам.  
Жители океанов и морей

31

30. Сделай подписи к рисункам.

30

27. Отметь  только земноводных.

27